

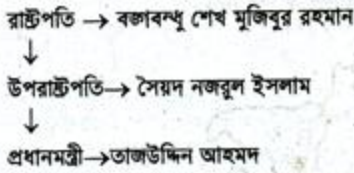
স্বজনশীল প্রশ্ন

সময়-২ ঘণ্টা ২০ মিনিট;

মান: ৬০

বিঃদ্রষ্টব্য: জন পাঠের সংখ্যা প্রশ্নের পূর্ণমান জ্ঞাপক। প্রদত্ত উদ্দীপকগুলো মনোযোগসহকারে পড় এবং সংশ্লিষ্ট প্রশ্নের উত্তর দাও। যে কোনো ছয়টি প্রশ্নের উত্তর দিতে হবে।

১.▶

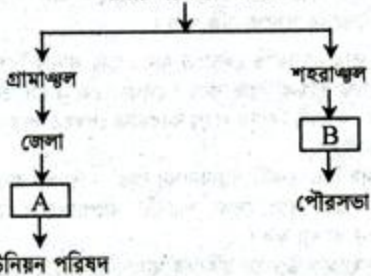


- ক. কত তারিখে স্বাধীন বাংলাদেশের পতাকা উত্তোলন করা হয়? ১
খ. ৭-ই মার্চের ভাষণের ১টি বৈশিষ্ট্য ব্যাখ্যা কর। ২
গ. উদ্দীপকে কোন সরকারের কথা বলা হয়েছে? ব্যাখ্যা কর। ৩
ঘ. আমাদের মুক্তিযুদ্ধ পরিচালনায় উদ্দীপকের সরকারের ভূমিকা বিশ্লেষণ কর। ৪
- ২.▶ গ্রীষ্মের ছুটিতে আমার সাথে অহনা ঢাকার বাইরের বিভিন্ন স্থাপত্য নিদর্শন দেখতে গিয়েছিল। ঈদের ছুটিতে গিয়েছিল ঢাকার শাহবাগে একটি জাদুঘরে। অহনার মামা বললেন, 'এসব প্রশ্ন সম্পদ রক্ষা করতে না পারলে আমরা আমাদের অতীত ঐতিহ্য হারিয়ে ফেলব।'
- ক. 'প্রশ্ন' অর্থ কী? ১
খ. উত্তরা গণভবন বলতে কী বোঝ? ২
গ. ইতিহাস ও ঐতিহ্য রক্ষায় অহনার দেখা জাদুঘরটির ভূমিকা উল্লেখ কর। ৩
ঘ. অহনার মামার উক্তিটির সাথে তুমি কি একমত?— তোমার মতামত বিশ্লেষণ কর। ৪
- ৩.▶ সৈজুতির বাবা মোবাইলে ইন্টারনেট ব্যবহারের মাধ্যমে প্রতিদিন পেপার পড়েন। বিভিন্ন শিক্ষামূলক পেজ সেভ করে রাখেন এবং সৈজুতিকে তা পড়তে দেন। বাবা সৈজুতিকে নেট ব্যবহারের উপযোগী একটি ভালো মোবাইল সেট কিনে দিলেন। মেয়েকে মোবাইল দেয়ার বিষয়টি তার মা ভালো দৃষ্টিতে নিলেন না।
- ক. ই-কমার্স কী? ১
খ. সামাজিকীকরণ প্রক্রিয়াটি ব্যাখ্যা কর। ২
গ. সামাজিকীকরণের উদ্দীপকে উল্লেখিত মাধ্যমটির ভূমিকা উল্লেখ কর। ৩
ঘ. সৈজুতির মা'র এরূপ দৃষ্টিভঙ্গির সাথে তুমি কি একমত? তোমার মতামত বিশ্লেষণ কর। ৪

- ৪.▶ ঘটনা-১: কামরুল-এর বাড়ি সিলেটে। তাদের একটি চা বাগান আছে। চা-পাতা বিক্রি করে তারা প্রচুর লাভ করে।
ঘটনা-২: দিলীপ ৭ বছর বিদেশে ছিলেন। দেশে ফিরে তিনি একটি মুরগির ফার্ম করেন। এতে এলাকার কিছু লোকের কর্মসংস্থান হলো—
- ক. GDP- এর পূর্ণরূপ কী? ১
খ. রেমিটেন্স বলতে কী বোঝ? ২
গ. দিলীপের কাজটি বাংলাদেশের কোন সম্পদের অন্তর্গত তা ব্যাখ্যা কর। ৩
ঘ. জাতীয় উৎপাদনে কামরুল ও দিলীপের আয়ের অবদান কতটুকু বলে তুমি মনে কর? বিশ্লেষণ কর। ৪

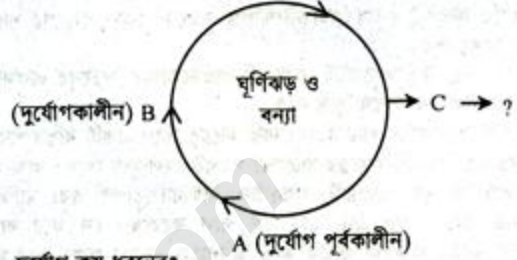
৫.▶

স্থানীয় সরকার কাঠামো



- ক. বাংলাদেশের সংবিধান কখন প্রণীত হয়? ১
খ. জাতীয়তাবাদ বলতে কী বোঝ? ২
গ. ছকের উল্লিখিত 'A' এর কার্যাবলি ব্যাখ্যা কর। ৩
ঘ. শহরাঞ্চলের উন্নয়নে 'B' এর ভূমিকা বিশ্লেষণ কর। ৪

৬.▶



- ক. দুর্যোগ কয় ধরনের? ১
খ. বৈশ্বিক উষ্ণায়ন বলতে কী বোঝ? ২
গ. উদ্দীপকে প্রশ্ন চিহ্নিত C এর করণীয় কী তা ব্যাখ্যা কর। ৩
ঘ. 'উদ্দীপকের 'A' এর কাল প্রাপ্তহানি ও ক্ষয়ক্ষতির পরিমাণ কমাতে সক্ষম'— মতামত দাও। ৪
- ৭.▶ মিলন নবম শ্রেণির একজন মেধাবী ছাত্র। সে খারাপ ছেলেদের সাথে মিশে একসময় ধূমপান শুরু করে। পড়ালেখা বন্ধ করে দেয়। নানারকম অপকর্মে লিপ্ত হয়ে পড়ে। একসময় সে পুলিশের হাতে গ্রেপ্তার হয়।
- ক. বাংলাদেশের কিশোর অপরাধের বয়স কত? ১
খ. কিশোর অপরাধ বলতে কী বোঝ? ২
গ. উদ্দীপকে কোন সামাজিক সমস্যার কথা বলা হয়েছে তা ব্যাখ্যা কর। ৩
ঘ. মিলনের মতো কিশোরদের উক্ত সমস্যা সমাজজীবনে উদ্ভাবন প্রভাব ফেলতে পারে— তোমার মতামত বিশ্লেষণ কর। ৪
- ৮.▶ X-এরা মজলৌলীয় জনগোষ্ঠীর লোক, পিতৃসূত্রীয়, ফানুস ওড়ায় ও 'বিজু' উৎসব পালন করে।
Y-এরাও মজলৌলীয় জনগোষ্ঠীর লোক, পিতৃসূত্রীয়, 'সান্দ্রে' উৎসব পালন করে।
- ক. 'বিজু' কী? ১
খ. 'মাহারি' বলতে কী বোঝ? ২
গ. X- কোন ক্ষুদ্র নৃ-গোষ্ঠীর লোক? এদের সামাজিক জীবন বর্ণনা কর। ৩
ঘ. X ও Y- এর সাংস্কৃতিক বৈশিষ্ট্য এদের জাতি সত্তাকে ধারণ করেছে— বিশ্লেষণ কর। ৪

৯.▶ জাতিসংঘের ২টি সংস্থা—

সংস্থার নাম	গঠনের সাল	সদর দপ্তর
P	১৯৪৬	প্যারিসে
Q	১৯৪৮	জেনেভায়

- ক. কত সালে জাতিসংঘ প্রতিষ্ঠিত হয়? ১
খ. জাতিসংঘের ২টি প্রধান উদ্দেশ্য উল্লেখ কর। ২
গ. বাংলাদেশে P এর ভূমিকা বর্ণনা কর। ৩
ঘ. বাংলাদেশের জনস্বাস্থ্য উন্নয়নে Q এর ভূমিকা মূল্যায়ন কর। ৪

[বি: প্র: সরবরাহকৃত উত্তরপত্রের বহুনির্বাচনি প্রশ্নের ক্রমিক নম্বরের বিপরীতে প্রদত্ত বর্ণসমূহ হতে সঠিক উত্তরের বর্ণটিতে টিক (✓) চিহ্ন দাও। প্রতিটি প্রশ্নের মান-১।]

- ব্রিটিশ ইস্ট-ইন্ডিয়া কোম্পানি কত সালে স্থাপিত হয়?
 - ক) ১৬০০
 - খ) ১৬৫১
 - গ) ১৬৫৮
 - ঘ) ১৬৬৪
- মুজিবনগর সরকারের উপরাষ্ট্রপতি কে ছিলেন?
 - ক) তাজউদ্দিন আহমদ
 - খ) এম. মনসুর আলী
 - গ) সৈয়দ নজরুল ইসলাম
 - ঘ) এ. এইচ. এম কামরুজ্জামান
- অন্নদা মজলল কে রচনা করেন?
 - ক) বিজয় গুপ্ত
 - খ) ঘনরাম
 - গ) মুকুন্দরাম
 - ঘ) ভারত চন্দ্র
- সিপাহি বিদ্রোহ কত সালে হয়েছিল?
 - ক) ১৭৫৭
 - খ) ১৭৮১
 - গ) ১৮৫৭
 - ঘ) ১৯৫৭
- খুব অল্প সময়ে ও কম খরচে দেশে-বিদেশে তথ্য আদান প্রদান করা যায় কোনটির মাধ্যমে?
 - ক) ই-কমার্স
 - খ) ই-মেইল
 - গ) ফেসবুক
 - ঘ) টুইটার
- ২০০৯-২০১০ অর্থবছরে মৎস্য আচ্ছরণের মোট পরিমাণ কত লক্ষ মেট্রিক টন ছিল?
 - ক) ১০.৭৬
 - খ) ১৫.৬৫
 - গ) ২৮.৯৭
 - ঘ) ২৯.৯৫
- আমাদের রাষ্ট্র পরিচালনার জন্য কয়টি মূলনীতি নির্ধারণ করা হয়েছে?
 - ক) ১
 - খ) ২
 - গ) ৩
 - ঘ) ৪
- গ্রিন হাউস গ্যাস হলো—
 - কার্বন-ডাই-অক্সাইড ও মিথেন
 - নাইট্রাস অক্সাইড ও CFC
 - HCFC ওজোন গ্যাস
 নিচের কোনটি সঠিক?
 - ক) i ও ii
 - খ) ii ও iii
 - গ) i ও iii
 - ঘ) i, ii ও iii
- বাংলাদেশের জনগণের মাথাপিছু আয় কত মার্কিন ডলার?
 - ক) ৪৪৮
 - খ) ৪৮৮
 - গ) ৮৪৮
 - ঘ) ৮৮৪
 বর্তমানে—১১৯০ মার্কিন ডলার
- কিশোর অপরাধ হলো—
 - গাড়ি ডাঙচুর
 - বিনা টিকিটে ভ্রমণ
 - যুগ গ্রহণ
 নিচের কোনটি সঠিক?
 - ক) i ও ii
 - খ) ii ও iii
 - গ) i ও iii
 - ঘ) i, ii ও iii
- 'সাংসারেক' কাদের আধি ধর্মের নাম?
 - ক) চাকমা
 - খ) গারো
 - গ) সনাতন
 - ঘ) বৌদ্ধ
- বাংলাদেশে মোট বনভূমির পরিমাণ কত বর্গ কি. মি?
 - ক) ২৪৮০৯
 - খ) ২৪৯০৮
 - গ) ২৪৯৮৮
 - ঘ) ২৪৯৯৩
- ২১ শে ফেব্রুয়ারি 'আন্তর্জাতিক মাতৃভাষা দিবস' হিসেবে সারা বিশ্বে স্বীকৃতি লাভ করেছে কোন সংস্থার উদ্যোগে?
 - ক) ইউনেস্কো
 - খ) ইউনিসেফ
 - গ) ডব্লিউএইচও
 - ঘ) ইউএনএফপিএ
- সতীদাহ প্রথা নিবারণ করেন কে?
 - ক) ঈশ্বরচন্দ্র বিদ্যাসাগর
 - খ) রাজা রামমোহন রায়
 - গ) লর্ড কর্নওয়ালিস
 - ঘ) লর্ড উইলিয়াম বেন্টিনক
- মুক্তিবাহিনী চলাকালে রংপুর কোন সেটরে ছিল?
 - ক) ছয়
 - খ) সাত

- আধুনিক বাংলা সাহিত্যের ভিত্তি গড়েছেন কে?
 - ক) আট
 - খ) নয়
 - গ) বজ্রিম চন্দ্র
 - ঘ) ঈশ্বরচন্দ্র বিদ্যাসাগর
 - ঙ) রবীন্দ্রনাথ ঠাকুর
 - চ) মাইকেল মধুসূদন দত্ত
 অনুচ্ছেদটি পড় এবং ১৭ ও ১৮ নং প্রশ্নের উত্তর দাও:
 গত বার্ষিক পরীক্ষা শেষে জনাব মালেক সাহেব শিক্ষার্থীদের নিয়ে বৃদ্ধিগংগার তীরে একটি ভবন পরিদর্শনে যান। ভবনটিতে প্রবেশ করে শিক্ষার্থীরা বইয়ের পড়া প্রাচীন নির্দর্শনগুলো বাস্তবে দেখে খুবই খুশি হলো।
- মালেক সাহেব শিক্ষার্থীদের নিয়ে কোন ভবনে গিয়েছিলেন?
 - ক) সরদার বাড়ি
 - খ) আহসান মঞ্জিল
 - গ) জাতীয় জাদুঘর
 - ঘ) জাতীয় গ্রন্থাগার
- শিক্ষার্থীদের নিয়ে এবূপ ভবন পরিদর্শনে যাওয়ার কারণ—
 - প্রাচীন ঐতিহ্যকে পরবর্তী বংশধরদের কাছে পৌঁছে দেয়া
 - ইতিহাসের চরিত্রগুলোর সাথে পরিচিত করানো
 - নবাবদের ব্যবহার্য দ্রব্যাদি প্রদর্শন
 নিচের কোনটি সঠিক?
 - ক) i ও ii
 - খ) i ও iii
 - গ) ii ও iii
 - ঘ) i, ii ও iii
- কোনটি সবচেয়ে সশস্ত্রাশী গণমাধ্যম?
 - ক) সংবাদপত্র
 - খ) রেডিও
 - গ) টেলিভিশন
 - ঘ) চলচ্চিত্র
- ২০০৯-২০১০ অর্থবছরে GDP তে কৃষি ও বনজ খাতের অবদান কত শতাংশ ছিল?
 - ক) ১০.৭৬
 - খ) ১৪.৩০
 - গ) ১৫.৬৫
 - ঘ) ২৯.৯৫
- শাসন বিভাগের সবিনয় রয়েছে—
 - ক) জনগণ
 - খ) চৌকিদার
 - গ) মেঘাঘর
 - ঘ) চেয়ারম্যান
 অনুচ্ছেদটি পড় এবং ২২ ও ২৩ নং প্রশ্নের উত্তর দাও:
 ২০১১ সালে জাপান সাগরের তলদেশে ভূমিকম্প হওয়ায় দেশটিতে প্রাকৃতিক দুর্যোগ দেখা দিয়েছিল।
- উক্ত ঘটনার ফলে কোন দুর্যোগটি হতে পারে?
 - ক) ভূমিকম্প
 - খ) সাইক্লোন
 - গ) খরা
 - ঘ) সুনামি
- উক্ত দুর্যোগটি বেশি ঘটর সম্ভাবনা—
 - পাখাড়ি এলাকায়
 - সমুদ্রতীরবর্তী এলাকায়
 - ভূমিকম্পপ্রবণ অঞ্চলে
 নিচের কোনটি সঠিক?
 - ক) i ও ii
 - খ) ii ও iii
 - গ) i ও iii
 - ঘ) i, ii ও iii
- শিশু মৃত্যু হ্রাসের ক্ষেত্রে সাক্ষ্য অর্জন করার বাংলাদেশ কত সালে জাতিসংঘ পুরস্কার লাভ করেছে?
 - ক) ২০০৯
 - খ) ২০১০
 - গ) ২০১১
 - ঘ) ২০১২
 নিচের উদ্দীপকটি পড় ২৫ ও ২৬ নং প্রশ্নের উত্তর দাও:
 হাসানের পিতা বড়লোক সে যখন যা চায় তা পায়। ইদানীং তার আচরণে পরিবর্তন এসেছে। স্কুলে না গিয়ে লুকিয়ে ফেনসিডিল সেবন করে এবং বিভিন্ন কারণ দেখিয়ে পিতার কাছে টাকা দাবি করে।
- হাসানের আচরণে কোনটি প্রকাশ পায়?
 - ক) মাদকাসক্তি
 - খ) শিশু অপরাধ
 - গ) নিপেজতা
 - ঘ) মূল্যবোধের অবক্ষয়
- উক্ত কর্মকাণ্ডের ফলে—
 - হাসানের মানসিক স্বাস্থ্যের পরিবর্তন হবে

- সামাজিক জীবনে বিশৃঙ্খলা সৃষ্টি হবে
- পারিবারিক সমস্যা দেখা দিতে পারে
- নিচের কোনটি সঠিক?
 - ক) i ও ii
 - খ) ii ও iii
 - গ) i ও iii
 - ঘ) i, ii ও iii
- কারা 'অস্ট্রালয়েড'?
 - ক) চাকমা
 - খ) গারো
 - গ) সাওতাল
 - ঘ) রাখাইন
- বর্তমানে আমাদের দেশে কয়টি টিএসপি সার কারখানা চালু আছে?
 - ক) এক
 - খ) দুই
 - গ) তিন
 - ঘ) ছয়
- ওআইসির সদর দপ্তর কোথায়?
 - ক) তেহরানে
 - খ) বাগদাদে
 - গ) জার্কোর্ডায়
 - ঘ) জেন্দায়
- মুসলিম শীর্ষ কত সালে প্রতিষ্ঠিত হয়?
 - ক) ১৯০৫
 - খ) ১৯০৬
 - গ) ১৯৪০
 - ঘ) ১৯৪৭
- 'আমার সোনার বাংলা আমি তোমায় ভালোবাসি'— এই গানের সুর কোন গানের সুর থেকে নেয়া হয়েছে?
 - ক) বাউল
 - খ) ভাওয়াইয়া
 - গ) গুলশিদি
 - ঘ) গম্ভীর
- প্রত্যেক জেলা শহরে শাখা রয়েছে—
 - বাংলাদেশ শিল্পকলা একাডেমির
 - বাংলাদেশ শিশু একাডেমির
 - বাংলা একাডেমির
 নিচের কোনটি সঠিক?
 - ক) i ও ii
 - খ) ii ও iii
 - গ) i ও iii
 - ঘ) i, ii ও iii
- কোনটি স্থানীয় সমাজের উপাদান?
 - ক) সিটি কর্পোরেশন
 - খ) জাতীয় সংসদ
 - গ) বিজ্ঞান ক্লাব
 - ঘ) ইউনিয়ন পরিষদ
- আমাদের দেশের বিপুলসংখ্যক মানুষ কিসের অভাবে অসচেতন ও অক্ষম?
 - ক) পুষ্টিহীনতা
 - খ) শিক্ষা
 - গ) চিকিৎসা
 - ঘ) কর্মসংস্থান
- বাংলাদেশে স্থানীয় সরকার কাঠামোর কোন স্তরের সবাই পরোক্ষভাবে নির্বাচিত?
 - ক) ইউনিয়ন পরিষদ
 - খ) উপজেলা পরিষদ
 - গ) জেলা পরিষদ
 - ঘ) সিটি কর্পোরেশন
- জনসংখ্যাকে সম্পদে পরিণত করার উপায় হচ্ছে—
 - দক্ষ ও জনশক্তিকে বিদেশে রপ্তানি করা
 - তথ্য ও যোগাযোগ প্রযুক্তিকে অগ্রাধিকার দেয়া
 - প্রশিক্ষণ ও কর্মসংস্থানের ব্যবস্থা করা
 নিচের কোনটি সঠিক?
 - ক) i ও ii
 - খ) ii ও iii
 - গ) i ও iii
 - ঘ) i, ii ও iii
- মারমা সমাজের প্রধান হলেন—
 - ক) নায়ক
 - খ) রাবুকা
 - গ) বোমো রাজা
 - ঘ) গম বং
- বাংলাদেশে বর্তমানে সম্ভাবনাময় হিসেবে বিবেচিত কোন শিল্পটি?
 - ক) সার
 - খ) গুয়াম
 - গ) চিনি
 - ঘ) চামড়া
- 'ন্যাটো' গঠিত হয় কোন দেশের নেতৃত্বে?
 - ক) সোভিয়েত ইউনিয়ন
 - খ) ফ্রান্স
 - গ) যুক্তরাজ্য
 - ঘ) আমেরিকা যুক্তরাষ্ট্র
- কত তারিখে ভারত বাংলাদেশকে স্বীকৃতি দেয়?
 - ক) ৫ ডিসেম্বর
 - খ) ৬ ডিসেম্বর
 - গ) ১৬ ডিসেম্বর
 - ঘ) ২১ মার্চ

১	২	৩	৪	৫	৬	৭	৮	৯	১০	১১	১২	১৩	১৪	১৫	১৬	১৭	১৮	১৯	২০
২১	২২	২৩	২৪	২৫	২৬	২৭	২৮	২৯	৩০	৩১	৩২	৩৩	৩৪	৩৫	৩৬	৩৭	৩৮	৩৯	৪০