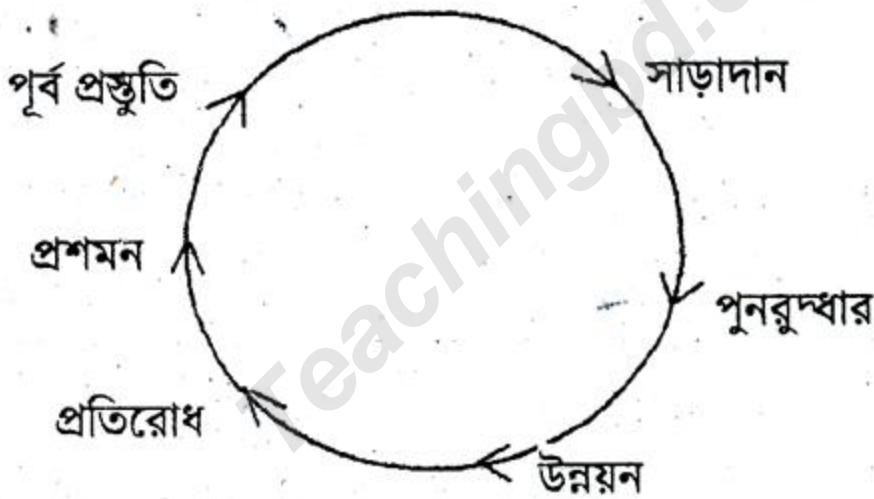


[দ্রষ্টব্য : জান পাশের সংখ্যা প্রশ্নের পূর্ণমান জ্ঞাপক। প্রদত্ত উদ্দীপকগুলো মনোযোগ দিয়ে লক্ষ্য করো এবং সংশ্লিষ্ট প্রশ্নগুলোর যথাযথ উত্তর দাও। যে কোনো চারটি প্রশ্নের উত্তর দাও।]

১.▶ জনসংখ্যা বৃদ্ধির সাথে অর্থনৈতিক উন্নয়নের সম্পর্ক অত্যন্ত গুরুত্বপূর্ণ। জনসংখ্যা বৃদ্ধি বা হ্রাস নির্ভর করে জন্মহার মৃত্যুহার ও অভিগমনের ওপর যা বিভিন্ন তত্ত্ব উপাত্ত ও গাণিতিক হিসাবের মাধ্যমে নির্ণয় করা হয়। জনসংখ্যা বৃদ্ধি ও অর্থনৈতিক উন্নয়ন বিশ্লেষণ করতে গিয়ে ওয়ার্নার থম্পসন একটি জনবিবর্তন মডেল প্রদান করেন যেখানে জন্মহার, মৃত্যুহার এবং অর্থনৈতিক উন্নয়ন সম্পর্কে উপস্থাপন করা হয়েছে।

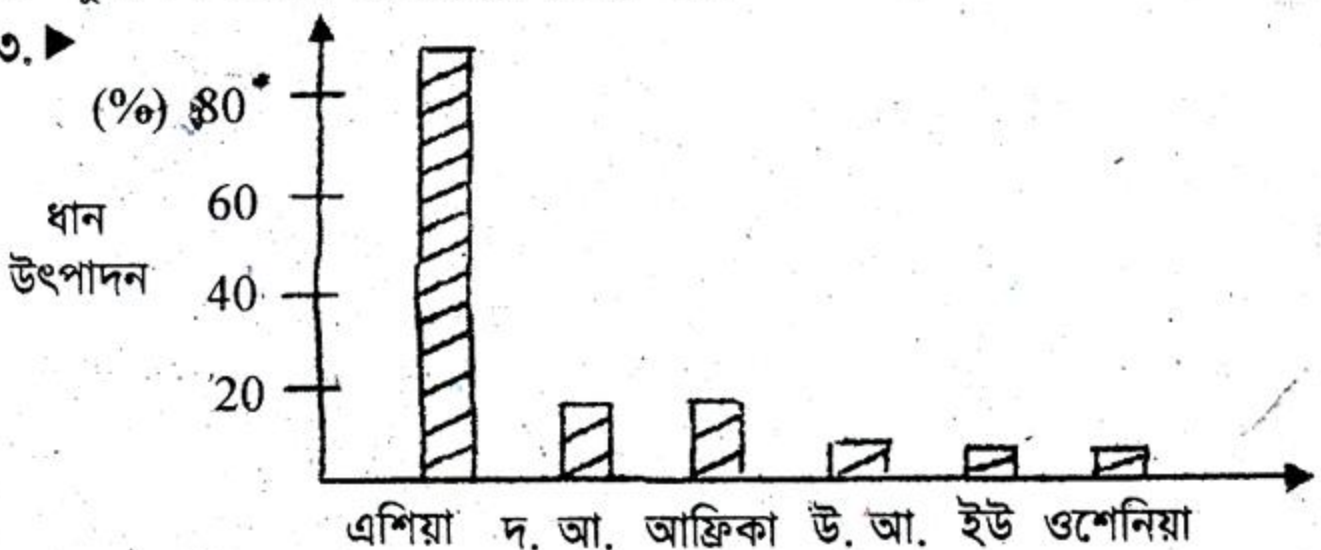
- ক. ওয়ার্নার থম্পসন কত সালে জনমিতিক ট্রানজিশনাল মডেলটি উপস্থাপন করেন? ১
- খ. উল্লিখিত মডেলে কয়টি পর্যায় ও কী কী? ২
- গ. উদ্দীপকের প্রদত্ত মডেলটির পর্যায়সমূহের বৈশিষ্ট্য বর্ণনা দাও। ৩
- ঘ. প্রদত্ত মডেলের আলোকে বাংলাদেশের জনসংখ্যা ও অর্থনৈতিক উন্নয়নের মধ্যে সম্পর্ক স্থাপন কর। ৪

২.▶



- ক. প্রশমন বলতে কী বোঝ? ১
- খ. অবকাঠামোগত প্রস্তুতি কী কী? ২
- গ. 'দূষণ ও দুর্যোগ এর সম্পর্ক সমানুপাতিক' ব্যাখ্যা কর। ৩
- ঘ. দুর্যোগ মোকাবেলার প্রক্রিয়া ব্যাখ্যা কর। ৪

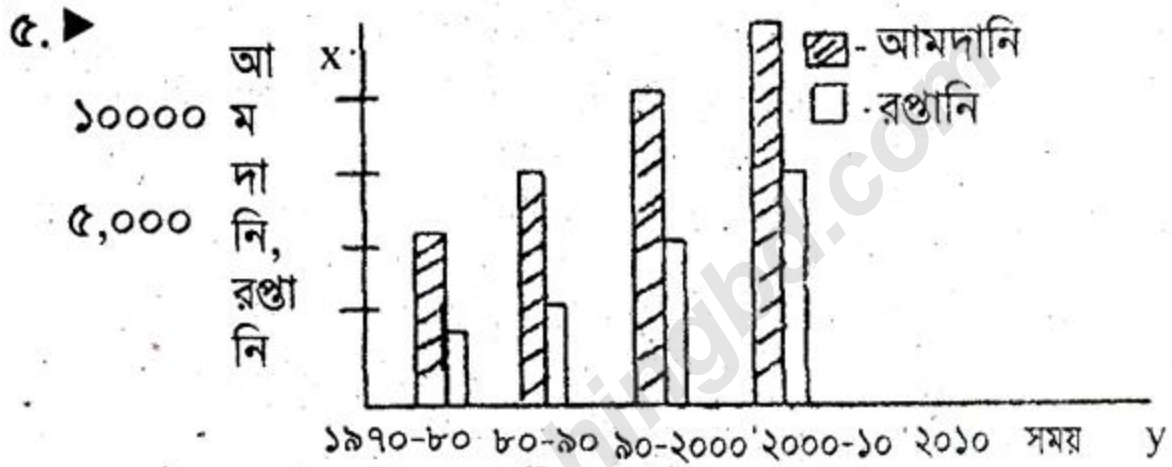
৩.▶



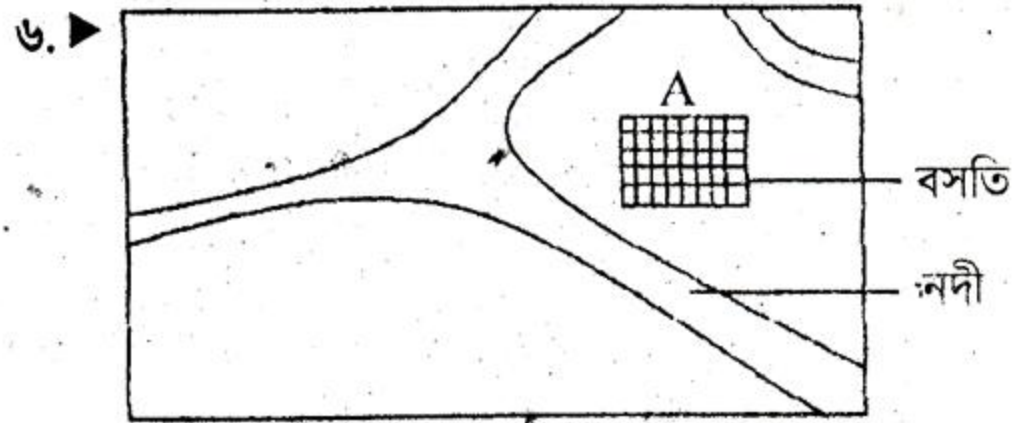
- ক. ধান উৎপাদনে ভৌগোলিক নিয়ামক কী কী? ১
- খ. ধান উৎপাদনকারী প্রধান ৫টি দেশের নাম লিখ। ২
- গ. ধান উৎপাদনে এশিয়া মহাদেশ কি গুরুত্বপূর্ণ? ৩
- ঘ. 'ধান এই অঞ্চলে প্রধান কৃষি ফসল' চিত্রের আলোকে ব্যাখ্যা কর। ৪

৪. ▶ প্রাকৃতিক গ্যাস বাংলাদেশের একমাত্র গুরুত্বপূর্ণ জ্বালানি সম্পদ। বাংলাদেশের শিল্পোন্নয়ন, তাপবিদ্যুৎ উৎপাদন, গৃহস্থালি ও বাণিজ্যিক কাজে এর ব্যবহার উল্লেখযোগ্য হারে বৃদ্ধি পাওয়ায় বিশেষজ্ঞরা ভবিষ্যৎ শক্তি সম্পদ নিয়ে চিন্তিত।

- ক. বাংলাদেশে প্রাকৃতিক গ্যাসের প্রধান উপাদান কী? ১
- খ. প্রাকৃতিক গ্যাস ব্যবহারের ক্ষেত্রগুলো কী কী? ২
- গ. চিত্রের মাধ্যমে বাংলাদেশের প্রাকৃতিক গ্যাসের খনিগুলো চিহ্নিত কর। ৩
- ঘ. 'শক্তিসম্পদই একমাত্র প্রাকৃতিক গ্যাসের বিকল্প' উদ্দীপকের আলোকে তত্ত্বটি বিশ্লেষণ কর। ৪



- ক. আমদানি ও রপ্তানি বাণিজ্য বলতে কী বোঝায়? ১
- খ. বাংলাদেশের আমদানি ও রপ্তানি পণ্যসমূহের একটি তালিকা কর। ২
- গ. রপ্তানিযোগ্য খাত হিসেবে পোশাক শিল্পের ভূমিকা ব্যাখ্যা কর। ৩
- ঘ. বাংলাদেশের বাণিজ্য ঘাটতির কারণ ও প্রতিকারের উপায় কী হতে পারে? চিত্রের সাহায্যে ব্যাখ্যা কর। ৪



- ক. গ্রামীণ ও নগর বসতি বলতে কী বোঝায়? ১
- খ. বসতি গড়ে ওঠার ভৌগোলিক উপাদানগুলো কী কী? ২
- গ. 'নদীই বসতি নির্মাণের প্রধান উপাদান' চিত্রের আলোকে ব্যাখ্যা কর। ৩
- ঘ. ঢাকা নগরীর সাথে চিত্রের 'A' নগরীর সামঞ্জস্যতা যাচাই কর। ৪

বিশেষ দৃষ্টব্য : সরবরাহকৃত বহুনির্বাচনি অভীক্ষার উত্তরপত্রে প্রশ্নের ক্রমিক নম্বরের বিপরীতে প্রদত্ত বর্ণসম্বলিত বৃত্তসমূহ হতে সঠিক/সর্বোৎকৃষ্ট উত্তরের বৃত্তটি বল পয়েন্ট কলম দ্বারা সম্পূর্ণ ভরাট করে। প্রতিটি প্রশ্নের মান ১।।

১. মানব ভূগোলের ক্ষেত্র কয়টি উপাদানে গঠিত?
 - ক ২টি
 - খ ৩টি
 - গ ৪টি
 - ঘ ৫টি
২. কোনটি ওশেনিয়া মহাদেশের বৃহত্তম দেশ?
 - ক মাদাগাস্কার
 - খ নিউজিল্যান্ড
 - গ অস্ট্রেলিয়া
 - ঘ পাপুয়া নিউগিনি
৩. রাজশাহী বিভাগের অন্তর্গত জেলা হলো—
 - i. বগুড়া ও জয়পুরহাট
 - ii. গাইবান্ধা ও কুড়িগ্রাম
 - iii. পাবনা ও সিরাজগঞ্জ

নিচের কোনটি সঠিক?

 - ক i ও ii
 - খ i ও iii
 - গ ii ও iii
 - ঘ i, ii ও iii
৪. কোনটি অভিগমনের বিকর্ষণমূলক কারণ?
 - ক সামাজিক নিরাপত্তাগত সুবিধা
 - খ কর্মসংস্থানের সুবিধা
 - গ আত্মীয়স্বজনের নৈকট্য লাভ
 - ঘ অর্থনৈতিক মন্দা
৫. অভিগমনের আকর্ষণমূলক কারণ কোনটি?
 - ক সাম্প্রদায়িক বৈষম্য
 - খ অর্থনৈতিক মন্দা
 - গ প্রাকৃতিক দুর্যোগজনিত ক্ষয়-ক্ষতি
 - ঘ সম্পদ প্রাপ্তিমূলক ব্যক্তিগত সুবিধা
৬. কোন ধরনের অঞ্চলে সাধারণত জন্মহার বেশি?
 - ক শহর অঞ্চলে
 - খ নগর অঞ্চলে
 - গ গ্রাম এলাকায়
 - ঘ পাহাড় ও বনাঞ্চলে
৭. বাংলাদেশের সবচেয়ে কম বসতি কোন জেলায়?
 - ক খাগড়াছড়ি
 - খ রাজশাহী
 - গ বান্দরবান
 - ঘ ধরগুনা
৮. বিক্ষিপ্ত গ্রামীণ বসতি গড়ে ওঠার কারণ হলো—
 - i. ভূ-প্রকৃতি, মাটি ও পানি
 - ii. বনাঞ্চল ও পশুচারণ
 - iii. সামাজিক ও প্রতিরক্ষা

নিচের কোনটি সঠিক?

 - ক i ও ii
 - খ i ও iii
 - গ ii ও iii
 - ঘ i, ii ও iii
৯. বিক্ষিপ্ত বসতির বৈশিষ্ট্য হলো—
 - ক বাসগৃহের একত্রে সমাবেশ
 - খ যোগাযোগ ব্যবস্থা খুব উন্নত
 - গ ক্ষুদ্রাকৃতির বসতি
 - ঘ বৃহৎ আকৃতির বসতি
১০. বাংলাদেশের অধিকাংশ শহরের অন্যতম সমস্যা কোনটি?
 - ক বস্তি
 - খ অধিক যানবাহন
 - গ স্বল্প আয়তন
 - ঘ রাস্তাঘাটের স্বল্পতা
১১. জীবনধারণের জন্য মানুষের প্রথম এবং প্রধান চাহিদা কী?
 - ক বিশুদ্ধ পানীয় জল
 - খ বস্ত্র
 - গ বাসস্থান
 - ঘ শিক্ষা
১২. পৃথিবীর অধিকাংশ ধান উৎপন্ন হয়—
 - ক চীন ও ভারত
 - খ ভারত ও বাংলাদেশ
 - গ ইন্দোনেশিয়া ও থাইল্যান্ড
 - ঘ চীন ও জাপান
১৩. পৃথিবীর প্রথম ও দ্বিতীয় গম উৎপাদনকারী দেশ হলো—
 - ক ভারত ও জাপান
 - খ চীন ও ভারত
 - গ ভারত ও রাশিয়া
 - ঘ আমেরিকা, যুক্তরাষ্ট্র ও ফ্রান্স
১৪. সমুদ্রের উপকূলীয় মৎস্যের মধ্যে উল্লেখযোগ্য হলো—
 - i. হেরিং ও ম্যাকারেলে
 - ii. সার্ভিন ও পিলচার্ড
 - iii. ইলিশ ও চিংড়ি

নিচের কোনটি সঠিক?

 - ক i ও ii
 - খ i ও iii
 - গ ii ও iii
 - ঘ i, ii ও iii
১৫. মেষ পালনে কোন দেশ বিশ্বে প্রথম?
 - ক ভারত
 - খ অস্ট্রেলিয়া
 - গ চীন
 - ঘ যুক্তরাজ্য
১৬. আকরিক লোহা উত্তোলনে কোন দেশ দুটি শীর্ষ স্থানীয়?
 - ক ভারত ও রুশ ফেডারেশন
 - খ দক্ষিণ আফ্রিকা ও আমেরিকা যুক্তরাষ্ট্র
 - গ চীন ও অস্ট্রেলিয়া
 - ঘ কানাডা ও সুইডেন
১৭. পৃথিবীর প্রধান কয়লা উত্তোলনকারী দেশ হলো—
 - ক ভারত ও অস্ট্রেলিয়া
 - খ চীন ও আমেরিকা যুক্তরাষ্ট্র
 - গ দক্ষিণ আফ্রিকা ও রুশ ফেডারেশন
 - ঘ যুক্তরাজ্য ও পোল্যান্ড
১৮. বাংলাদেশের সর্ববৃহৎ গ্যাসক্ষেত্র কোনটি?
 - ক বাখরাবাদ
 - খ হরিপুর
 - গ তিতাস
 - ঘ ছাতক

১৯. খনিজ সম্পদ কমে গেলে কোন প্রভাবটি দেখা যাবে?
- ক চিকিৎসা সহায়তা কমে যাবে
খ শিল্প ও বাণিজ্য হ্রাস পাবে
গ মানুষের সুখ-স্বাস্থ্য ও সমাজের উন্নতি কমে যাবে
ঘ রাজনৈতিক অস্থিরতা দেখা দেবে
২০. কোন দেশ লৌহ ও ইস্পাত শিল্পে দ্বিতীয়?
- ক রুশ ফেডারেশন খ জাপান
গ চীন ঘ যুক্তরাষ্ট্র
২১. বাংলাদেশে কয়টি চিনির কল আছে?
- ক ১৬টি খ ১৭টি
গ ১৮টি ঘ ২০টি
২২. বাংলাদেশে কয়টি সার কারখানা আছে?
- ক ৫টি খ ৬টি
গ ৭টি ঘ ৮টি
২৩. কোন দশকে রপ্তানিমুখী পোশাক শিল্পের যাত্রা শুরু হয়?
- ক সত্তর দশকের প্রথমে
খ আশির দশকের প্রথমে
গ আশির দশকের শেষে
ঘ সত্তর দশকের শেষে
২৪. বাংলাদেশের যোগাযোগ ব্যবস্থার ওপর প্রাকৃতিক পরিবেশের প্রভাব হলো—
- i. নদ-নদী ও ভূ-প্রকৃতি
ii. মূলধন ও শ্রমিক
iii. বর্ষাকালের প্রভাব ও সড়ক নির্মাণে স্বল্প সময়কাল
- নিচের কোনটি সঠিক?
- ক i ও ii খ i ও iii
গ ii ও iii ঘ i, ii ও iii
২৫. বাংলাদেশের সড়কপথের সুবিধার মধ্যে রয়েছে—
- i. বাজার ব্যবস্থা ও সুযম অর্থনৈতিক উন্নতি
ii. কৃষি ও শিল্পোন্নয়ন
iii. দ্রব্যমূল্যের সমতা ও কর্মসংস্থান
- নিচের কোনটি সঠিক?
- ক i ও ii খ i ও iii
গ ii ও iii ঘ i, ii ও iii
২৬. বিশ্বের কোন দেশের সাথে বাংলাদেশের বাণিজ্যিক সম্পর্ক সবচেয়ে বেশি ও ঘনিষ্ঠ?
- ক ভারত খ যুক্তরাষ্ট্র
গ জাপান ঘ সৌদি আরব
২৭. বাংলাদেশের সাথে আমদানি ও রপ্তানিকারক প্রধান দেশসমূহ হলো—

i. চীন, জাপান, দক্ষিণ কোরিয়া

ii. যুক্তরাষ্ট্র, যুক্তরাজ্য, চীন

iii. চীন, জাপান, যুক্তরাষ্ট্র

নিচের কোনটি সঠিক?

ক i ও ii

খ ii ও iii

গ i ও iii

ঘ i, ii ও iii

২৮. পানি দূষণের জন্য প্রধানত দায়ী হলো—

ক কল-কারখানার নির্গত গ্যাস

খ যানবাহনের নির্গত গ্যাস

গ কৃষি বর্জ্য ও জলযান নির্গত বর্জ্য

ঘ তাপবিদ্যুৎ কেন্দ্রের ধোঁয়া ও ছাই

২৯. দুর্যোগ ব্যবস্থাপনার উদ্দেশ্য হলো—

i. ক্ষতির পরিমাণ হ্রাস করা

ii. ত্রাণ ও পুনর্বাসন নিশ্চিত করা

iii. পুনরুদ্ধার কাজ ভালোভাবে সম্পন্ন করা

নিচের কোনটি সঠিক?

ক i ও ii

খ ii ও iii

গ i ও iii

ঘ i, ii ও iii

৩০. বর্তমানে বিশ্বে অভিজগনের ক্ষেত্রে যে কারণ অধিক গ্রহণযোগ্য—

i. উচ্চশিক্ষা

ii. উন্নত জীবনযাপন

iii. উচ্চ মজুরি

নিচের কোনটি সঠিক?

ক i ও ii

খ i ও iii

গ ii ও iii

ঘ i, ii ও iii

৩১. পুঞ্জীভূত বসতির বৈশিষ্ট্য নয় কোনটি?

ক বাসগৃহের একত্রে সমাবেশ

খ যোগাযোগ ব্যবস্থা খুব উন্নত

গ বৃহদাকৃতি বসতি

ঘ ছড়িয়ে ছিটিয়ে থাকা বসতি

৩২. কোন দেশ বিশ্বে ধান, গম, চা উৎপাদন প্রথম?

ক ভারত

খ চীন

গ ইন্দোনেশিয়া

ঘ বাংলাদেশ

৩৩. জৈব খনিজ হলো—

ক লোহা ও সীসা

খ কয়লা ও খনিজ তেল

গ তামা ও চিনি

ঘ মিকেল ও ম্যাঙ্গানিজ

৩৪. পৃথিবীর প্রধান খনিজ তেল উত্তোলনকারী দেশ কোনটি?

ক আমেরিকা যুক্তরাষ্ট্র

খ সৌদি আরব

গ রুশ ফেডারেশন

ঘ চীন

৩৫. রাজশাহী বিভাগে কয়টি চিনির কল আছে?

ক ৩টি

খ ৪টি

গ ১০টি

ঘ ৬টি

১	ক	২	গ	৩	খ	৪	ঘ	৫	ঙ	৬	ঢ	৭	ঢ	৮	ভ	৯	ঢ	১০	ভ	১১	ঢ	১২	ভ	১৩	ঢ	১৪	ভ	১৫	ঢ	১৬	ঢ	১৭	ঘ	১৮	ঢ	১৯	ঘ	২০	ঘ		
২১	ঢ	২২	ঢ	২৩	ঘ	২৪	ঘ	২৫	ঘ	২৬	ঘ	২৭	ঘ	২৮	ঢ	২৯	ঘ	৩০	ঘ	৩১	ঘ	৩২	ঘ	৩৩	ঘ	৩৪	ঘ	৩৫	ঢ												