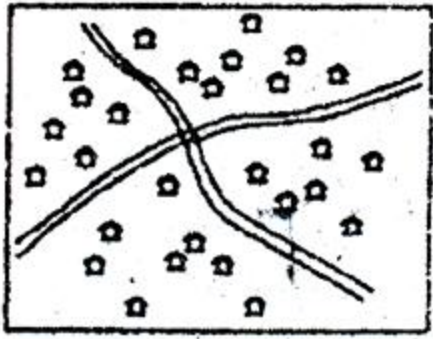


[দ্রষ্টব্য : জান পাশের সংখ্যা প্রশ্নের পূর্ণমান জ্ঞাপক। প্রদত্ত উদ্দীপকগুলো মনোযোগ দিয়ে লক্ষ্য করো এবং সংশ্লিষ্ট প্রশ্নগুলোর যথাযথ উত্তর দাও। যে কোনো চারটি প্রশ্নের উত্তর দাও।]

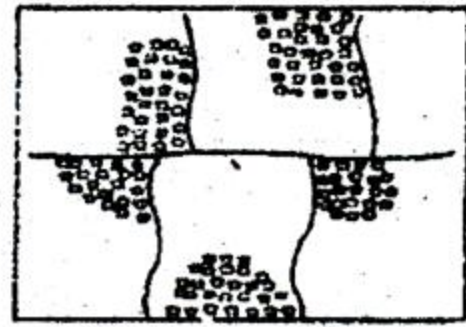
১. ► ভারতের একটি কলেজের ভূগোল বিভাগের শিক্ষার্থীরা শিক্ষা সফরে জাপান যাওয়ার আমন্ত্রণ পায়। যাওয়ার পর তারা জাপান সম্পর্কে যে সব তথ্য পায়— তা নিজের দেশের তুলনায় ব্যাপক পার্থক্যমূলক।

- ক. মহাদেশ কাকে বলে? ১
- খ. মানব ভূগোলের কী কী গুরুত্ব রয়েছে? ব্যাখ্যা কর। ২
- গ. শিক্ষার্থীরা যে দেশটিতে শিক্ষা সফরের আমন্ত্রণ পায় তার বর্ণনা দাও। ৩
- ঘ. দুটি দেশের মধ্যে তারা যে পার্থক্য দেখতে পেয়েছে উদ্দীপকের আলোকে তা বিশ্লেষণ কর। ৪

২. ► চিত্রগুলো লক্ষ্য করো এবং উত্তর দাও।



চিত্র-এ



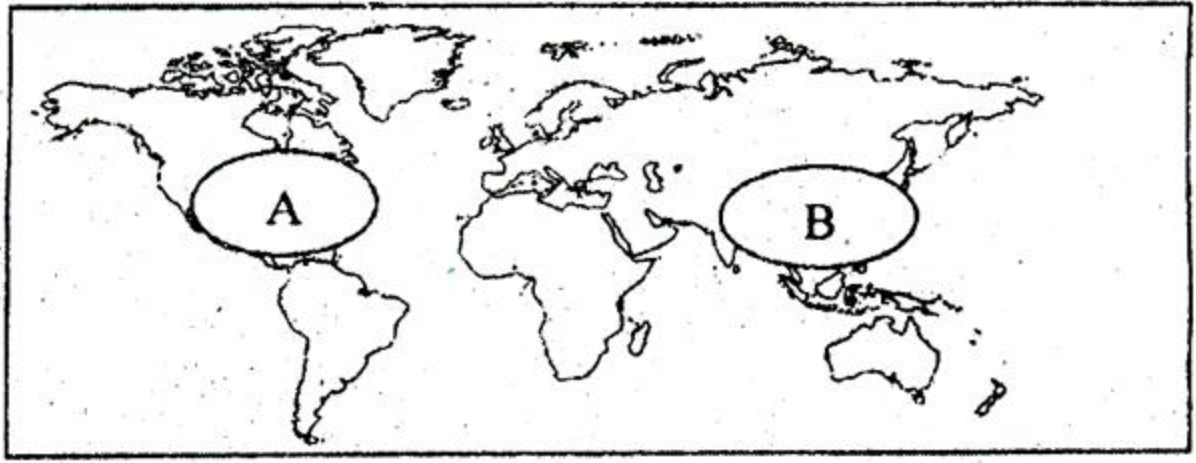
চিত্র-বি

- ক. বয়োপিরামিড কাকে বলে? ১
- খ. অভিগমন কত প্রকার? ব্যাখ্যা কর। ২
- গ. বসতি হিসেবে চিত্র A এর ব্যাখ্যা দাও। ৩
- ঘ. বসতি হিসেবে চিত্র A ও B এর পার্থক্য উদ্দীপকের আলোকে বিশ্লেষণ কর। ৪

৩. ► মধ্যপ্রাচ্যের দেশগুলো প্রাচীনকাল থেকে নিজেদের মধ্যে যুদ্ধ-বিগ্রহে লিপ্ত থেকে ঐক্য নষ্ট করেছে। এগুলো দমনের নামে পশ্চিমদেশগুলো এ অঞ্চলে অনুপ্রবেশ করে মূলত এ অঞ্চলের 'তরল স্বর্ণ' নামে খ্যাত খনিজসম্পদটির উপর আধিপত্য বিস্তার করেছে। বিশ্ব বাণিজ্যে যা অত্যন্ত গুরুত্বপূর্ণ।

- ক. OPEC কী? ১
- খ. খনিজ সম্পদের ভূমিকা কী কী? ব্যাখ্যা কর। ২
- গ. উদ্দীপকে যে খনিজ সম্পদ সম্পর্কে 'পশ্চিমা দেশগুলোর আগ্রহের কথা বলা হয়েছে তার ব্যাখ্যা দাও। ৩
- ঘ. উদ্দীপকে নির্দেশিত খনিজ সম্পদটির আন্তর্জাতিক বাণিজ্য উদ্দীপকের আলোকে বিশ্লেষণ কর। ৪

৪. ► চিত্রটি লক্ষ্য কর এবং প্রশ্নের উত্তর দাও।

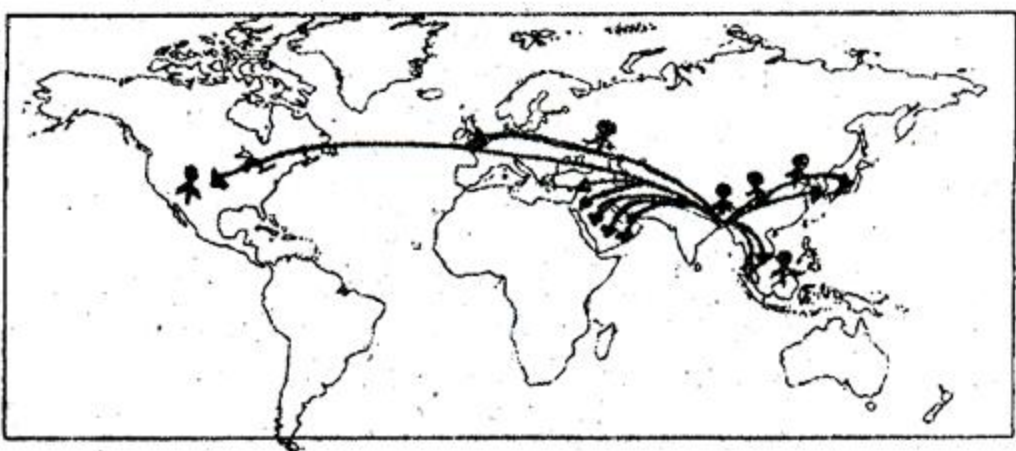


- ক. পশু পালন কাকে বলে? ১
 খ. প্রাথমিক শিল্প হিসাবে মৎস্য শিল্পের কী কী গুরুত্ব রয়েছে? ব্যাখ্যা কর। ২
 গ. মানচিত্রে প্রদর্শিত গম উৎপাদনকারী অঞ্চল হিসেবে A অঞ্চলের বর্ণনা দাও। ৩
 ঘ. উদ্দীপকের নির্দেশিত A ও B অঞ্চলের প্রধান কৃষিজপণ্য চাষের অনুকূল উপাদানের পার্থক্য উদ্দীপকের আলোকে বিশ্লেষণ কর। ৪

৫. ► সাকিব বিশ্বকাপ ক্রিকেটে একটি পেসবল খেলতে গেলে বলটি বাউন্স করে তার ইম্পাত নির্মিত হেলমেটে লেগে সীমানা অতিক্রম করলো। এডেল্টের মাঠে বাংলাদেশী দর্শকরা আতঙ্কিত হলেও দেখা গেল ইম্পাত নির্মিত হেলমেটের কারণে সাকিব প্রচণ্ড গতির বলের আঘাত থেকে বেঁচে গিয়েছে।

- ক. কার্পাস বয়ন শিল্প কাকে বলে? ১
 খ. বাংলাদেশের পোশাক শিল্পে নারী শ্রমিকের অবদান গুরুত্বপূর্ণ কেন? ব্যাখ্যা কর। ২
 গ. উদ্দীপকের আলোচ্য পণ্যটি যে শিল্পে উৎপাদিত হয়েছে তার অনুকূল উপাদান ব্যাখ্যা কর। ৩
 ঘ. উদ্দীপকে নির্দেশিত শিল্পে উন্নত যে কোন একটি দেশের এই শিল্পের বিশ্লেষণ কর। ৪

৬. ► মানচিত্রটি লক্ষ্য কর এবং প্রশ্নগুলোর উত্তর দাও :



চিত্র : বাংলাদেশের রপ্তানি বাণিজ্য—

- ক. আন্তর্জাতিক বাণিজ্য কাকে বলে? ১
 খ. বাংলাদেশের বাণিজ্যে অপ্রচলিত পণ্য কী কী? ব্যাখ্যা কর। ২
 গ. মানচিত্রে বাংলাদেশের বৈদেশিক বাণিজ্যের কোন বিষয়টি দেখানো হয়েছে? আলোচনা কর। ৩
 ঘ. উদ্দীপকে দৃশ্যমান আমদানি কার্যক্রমে আমদানিকারক দেশগুলোর চাহিদার কোন কোন বিষয় গুরুত্ব পায় তা উদ্দীপকের আলোকে বিশ্লেষণ কর। ৪

[বিশেষ দৃষ্টব্য : সরবরাহকৃত বহুনির্বাচনি অভীক্ষার উত্তরপত্রে প্রশ্নের ক্রমিক নম্বরের বিপরীতে প্রদত্ত বর্ণসম্বলিত বৃত্তসমূহ হতে সঠিক/সর্বোৎকৃষ্ট উত্তরের বৃত্তটি বল পয়েন্ট কলম দ্বারা সম্পূর্ণ ভরাট করে। প্রতিটি প্রশ্নের মান ১।]

১. বাংলাদেশ কত ডিগ্রী দ্রাঘিমা রেখায় অবস্থিত?

- ক) ৮৮°০১' পূর্ব — ৯২°৪১' পূর্ব
খ) ২৩°৮৪' পূর্ব — ২৬°৩৯' পূর্ব
গ) ৮৮°০১' পশ্চিম — ৯২°৪১' পূর্ব
ঘ) ৮৮°০১' পূর্ব — ২৬°৩৮' পূর্ব

২. উত্তর গোলার্ধে অবস্থিত—

- i. ভারত ও যুক্তরাষ্ট্র ii. যুক্তরাষ্ট্র
iii. দক্ষিণ কোরিয়া ও জাপান
নিচের কোনটি সঠিক?

- ক) i ও ii
খ) i ও iii
গ) ii ও iii
ঘ) i, ii ও iii

৩. কোনটি মানব ভূগোলের শাখা নয়?

- ক) জনবসতি ভূগোল
খ) জনসংখ্যা ভূগোল
গ) রাজনৈতিক ভূগোল
ঘ) প্রাকৃতিক ভূগোল

অনুচ্ছেদটি পড় এবং ৪ ও ৫ নং প্রশ্নের উত্তর দাও :

আনোয়ার সাহেব বাংলাদেশের ঢাকা জেলা থেকে দক্ষিণাঞ্চলে অবস্থিত বান্দরবান জেলায় ভ্রমণ করেছিলেন। তিনি সেখানকার ভূপ্রকৃতি, উদ্ভিদ ও প্রাণী থেকে ঢাকার ভূপ্রকৃতি উদ্ভিজ্জ ও প্রাণীর মধ্যে বৈচিত্র্যতা খুঁজে পান।

৪. আনোয়ার সাহেবের ভ্রমণকৃত এলাকা কোন ধরনের ভূপ্রকৃতির আওতাভুক্ত?

- ক) টারশিয়ারী যুগের ভূপ্রকৃতি
খ) প্রাইস্টোসিন যুগের চত্বরসমূহ
গ) সাম্প্রতিককালের প্লাবন সমভূমি
ঘ) টারশিয়ারী প্রাইস্টোসিন যুগের চত্বরসমূহ

৫. পাহাড়িয়া অঞ্চলের ভূপ্রকৃতির বৈশিষ্ট্য হলো—

- i. ভূমিগুলো নদী বিধৌত সমভূমি
ii. পার্বত্য সমভূমি
iii. বন্ধুর প্রকৃতির
নিচের কোনটি সঠিক?

- ক) i ও ii
খ) i ও iii
গ) ii ও iii
ঘ) i, ii ও iii

৬. বাংলাদেশের খনিজ সম্পদ ব্যবহৃত হয়—

- i. কৃষি উন্নয়নে
ii. শিল্প উন্নয়নে
iii. সরকারী আয় বৃদ্ধিতে
নিচের কোনটি সঠিক?

- ক) i ও ii
খ) ii ও iii
গ) i ও iii
ঘ) i, ii ও iii

৭. Migrate শব্দটি কোন ভাষা থেকে এসেছে?

- ক) ল্যাটিন
খ) গ্রিক
গ) ফরাসি
ঘ) পর্তুগিজ

নিচের উদ্দীপকটি পড় এবং ৮ ও ৯ নং প্রশ্নের উত্তর দাও :
দিবা গ্রামে তার দাদার বাড়ী গেল। সেখানে সে দেখলো পুরাতন একটি বট গাছের নিচে সপ্তাহে দুদিন বহু মানুষ কেনাবেচা করে।

৮. দিবার দেখা পণ্য বিনিময়ের এ স্থানকে কী বলে?

- ক) বাজার
খ) গ্রামীণ হাট
গ) বাণিজ্যিক এলাকা
ঘ) শপিং মল

৯. উদ্দীপকের স্থানটিতে—

- i. স্থায়ী দোকান ঘর থাকে

ii. দোকানে কোন ছাউনি থাকে না

iii. নিত্য ব্যবহার্য পণ্য ক্রয় বিক্রয় হয়
নিচের কোনটি সঠিক?

- ক) i ও ii
খ) i ও iii
গ) ii ও iii
ঘ) i, ii ও iii

১০. বিশ্ব স্বাস্থ্য সংস্থার রিপোর্ট অনুযায়ী উন্নয়নশীল দেশে প্রতি বছর কোন অসুখে ২ মিলিয়ন শিশু মারা যায়?

- ক) এইডস
খ) ক্যান্সার
গ) ফিবুলা
ঘ) ডাইরিয়া

১১. তোমার এলাকায় জনসংখ্যা ৫,০০০ জন এবং আয়তন ৫ বর্গ কিলোমিটার হলে জনসংখ্যার ঘনত্ব কত হবে?

- ক) ৫০০০/ বর্গ কি. মি.
খ) ১০০০/ বর্গ কি. মি.
গ) ৫০০ জন/ বর্গ কি. মি.
ঘ) ১০০ জন/ বর্গ কি. মি.

১২. উন্নয়নশীল দেশসমূহে জনসংখ্যা বৃদ্ধির কারণ—

- i. উচ্চ মৃত্যুহার
ii. উচ্চ জন্মহার
iii. কম মৃত্যুহার
নিচের কোনটি সঠিক?

- ক) i ও ii
খ) i ও iii
গ) ii ও iii
ঘ) i, ii ও iii

১৩. কোন সংস্থাটি সদর দপ্তর জেনেভায় অবস্থিত?

- ক) ASEAN
খ) WTO
গ) AFTA
ঘ) G-8

নিচের উদ্দীপকটি পড় এবং ১৪ ও ১৫ নং প্রশ্নের উত্তর দাও :

শীতকালে বাংলাদেশের উত্তর পূর্বদিক থেকে মৌসুমী বায়ু প্রবাহিত হয় বলে এ সময়ে খুব কম বৃষ্টিপাত হয়। বৃষ্টিপাতের পরিমাণ ৫—১৫ মি. মি. এছাড়া এ সময় শীতের আমেজ অনুভূত হয়।

১৪. বাংলাদেশের শীতকালের স্থায়ীত্বকাল—

- ক) নভেম্বর-ফেব্রুয়ারি
খ) মার্চ-মে
গ) জুন-আগস্ট
ঘ) সেপ্টেম্বর-অক্টোবর

১৫. উক্ত ঋতুতে উৎপন্ন ফসল হচ্ছে—

- i. গম
ii. পাট
iii. রবিশস্য
নিচের কোনটি সঠিক?

- ক) i ও ii
খ) i ও iii
গ) ii ও iii
ঘ) i, ii ও iii

১৬. অবাধ অভিগমন ঘটানোর কারণ—

- i. উৎস স্থলের নানাবিধ অসুবিধা
ii. উৎস স্থলের নানাবিধ সুবিধা
iii. গন্তব্য স্থলে অধিকতর সুযোগ
নিচের কোনটি সঠিক?

- ক) i ও ii
খ) ii ও iii
গ) i ও iii
ঘ) i, ii ও iii

১৭. রনি কানাডায় পড়াশুনা করতে গিয়ে সেখানে স্থায়ীভাবে বসবাস শুরু করে তার এই অভিগমনকে কী বলা হয়?

- ক) বলপূর্বক
খ) উদ্বাস্তু
গ) শরণার্থী
ঘ) অভ্যন্তরীণ অভিগমন

